

PROVA: CONCURSO DE BOLSAS 3º ANO

ALUNO:

Nº:

SÉRIE:

TURMA:

TURNO:

PROFESSOR:

Matemática - Ensino Fundamental

Questão 1

Observe o horário em que Sara saiu de casa para ir ao cinema.



Ela levou 15 minutos para chegar. Que horas Sara chegou ao cinema?

Alternativas da questão 1

A 10:05**B** 10:10**C** 10:25**D** 10:30**Questão 2**

No sábado, Caio foi com seus pais ao cinema. O filme escolhido começou às 7:45 da noite e terminou às 9:50 da noite.

Quanto tempo durou o filme que Caio e seus pais escolheram?

Alternativas da questão 2

A 1 hora e 15 minutos**B** 1 hora e 45 minutos**C** 1 hora e 55 minutos**D** 2 horas e 05 minutos**Questão 3**

Vinícius economizou:



Com esse dinheiro comprou uma bola por R\$ 10,00 e um caderno por R\$ 5,00. Após as compras, quantos reais sobraram?

Alternativas da questão 3

A R\$ 15,00**B** R\$ 25,00**C** R\$ 29,00**D** R\$ 40,00

Questão 4

Na padaria da esquina, um pãozinho delicioso custa R\$ 1,50, enquanto um bolo de cenoura irresistível tem o preço de R\$ 15,00. Larissa, uma cliente fiel, decidiu fazer uma compra especial para o lanche da tarde. Ela escolheu levar 3 pãezinhos e um bolo de cenoura.

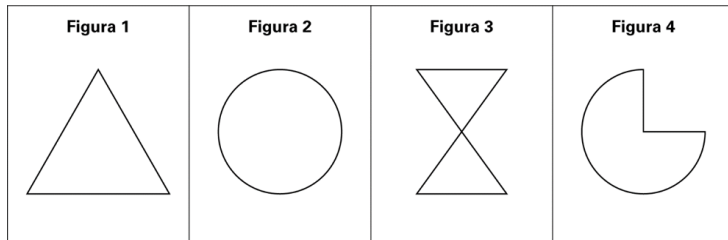
Quantos reais Larissa pagou no total?

Alternativas da questão 4

- A** R\$ 15,00
- B** R\$ 16,50
- C** R\$ 19,50
- D** R\$ 20,50

Questão 5

Considere as seguintes figuras planas:



Das figuras apresentadas, aquela que pode ser considerada um polígono com apenas três vértices é a figura:

Alternativas da questão 5

- A** 1
- B** 2
- C** 3
- D** 4

Questão 6

Rafaela foi ao mercado e comprou uma caixa de suco em forma de quadrado, um pacote de biscoitos em forma de triângulo, uma barra de chocolate em forma de retângulo e um pacote de pão sírio em forma de círculo.

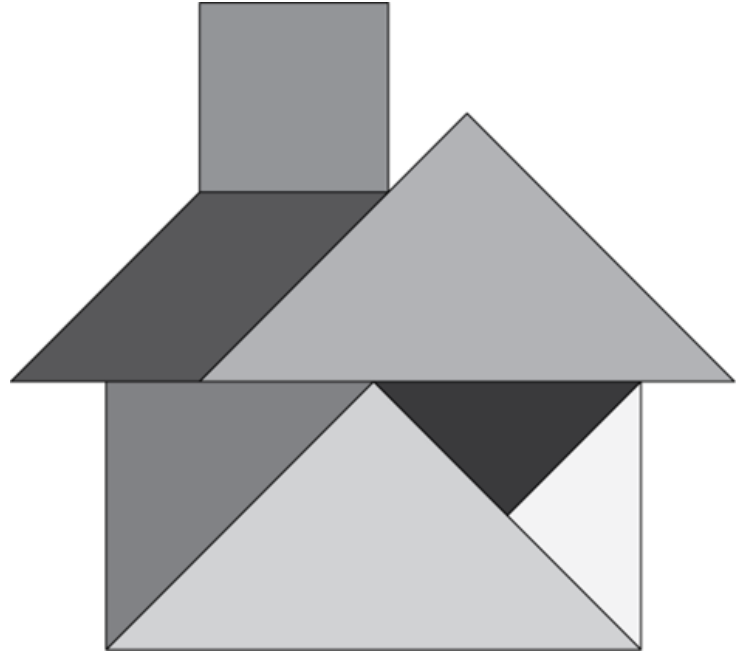
Rafaela percebeu que entre as embalagens aquela que possui quatro lados iguais é a que tem forma de

Alternativas da questão 6

- A** Triângulo
- B** Retângulo
- C** Quadrado
- D** Círculo

Questão 7

Isabel estava brincando com seu *tangram* e formou uma casinha usando as 7 peças.



Quais tipos de polígonos diferentes Isabel pode identificar na casinha?

Alternativas da questão 7

- A** Triângulos, quadrado e paralelogramo.
- B** Triângulos, paralelogramo e trapézio.
- C** Quadrados, círculo e trapézio.
- D** Quadrados, círculo e triângulo.

Questão 8

Juninho ganhou dos tios duas cédulas de R\$ 20,00 e uma cédula de R\$ 10,00 em seu aniversário. Seu pai o levou a uma loja de brinquedos para que ele comprasse algo com o dinheiro que ganhou. Chegando na loja, ele olhou para a vitrine e anotou os preços de cada brinquedo.

Brinquedo	Preço
Carrinho	R\$ 22,50
Bola	R\$ 12,50
Conjunto de bolinhas de gude	R\$ 8,00
Avião de madeira	R\$ 25,00
Robô	R\$ 28,50

Se Juninho quiser comprar um robô, um carrinho e um conjunto de bolinhas de gude, ele terá dinheiro suficiente?

Alternativas da questão 8

- A** Sim, e ele terá 1 real de troco.
- B** Sim, mas não terá troco.
- C** Não, pois faltam 9 reais.
- D** Não, pois faltam 29 reais.

Questão 9

Uma partida de futebol começou às 14 horas e é dividida da seguinte maneira:

- 1º tempo com duração de 45 minutos;
- Intervalo de 15 minutos;
- 2º tempo com duração de 45 minutos.

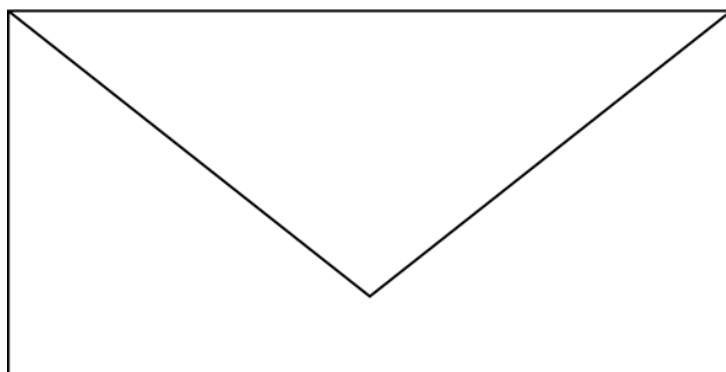
Em que horário a partida de futebol terminará?

Alternativas da questão 9

- A** 14h 30min
- B** 14h 45min
- C** 15h 30min
- D** 15h 45min

Questão 10

Observe o desenho abaixo, que mostra um envelope. Nele, é possível identificar duas figuras planas famosas.



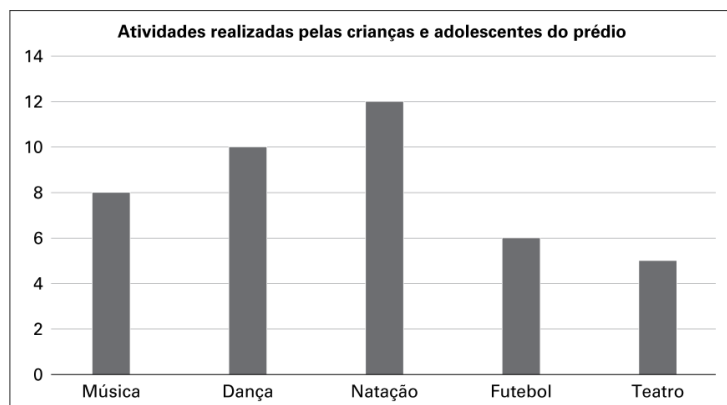
Que figuras são essas? Quantos vértices têm cada uma delas?

Alternativas da questão 10

- A** Triângulo que tem 4 vértices e retângulo que tem 3 vértices.
- B** Quadrado que tem 4 vértices e triângulo que tem 3 vértices.
- C** Retângulo que tem 4 vértices e triângulo que tem 3 vértices.
- D** Retângulo que tem 4 vértices e trapézio que tem 4 vértices.

Questão 11

O prédio onde Diana mora, conta com 43 crianças moradoras. Algumas delas, após saírem da escola, realizam algumas atividades. O síndico, senhor Samuel, resolveu anotar em uma tabela essas atividades.



Com base nos dados da tabela, quantas crianças não participam de nenhuma atividade após a escola?

Alternativas da questão 11

A 2

B 4

C 5

D 7

Questão 12

A turma de alunos do 3º ano do colégio onde Alice estuda fez uma pesquisa sobre os tipos de animais de estimação que possuem em casa. Os resultados foram organizados em uma tabela.

Animais que os alunos do 3º ano têm em casa

Tipo de Animal	Número de Alunos
Cachorro	12
Gato	8
Pássaro	5
Peixe	3
Coelho	2

Cada aluno pôde dar apenas uma resposta. Qual a quantidade de alunos do 3º ano que tem algum animal de estimação?

Alternativas da questão 12

A 20

B 25

C 30

D 35

Questão 13

Camila levou alguns brinquedos para a festa do pijama na casa de sua amiga. Ela levou 4 bonecas, 3 carrinhos, 2 ursos de pelúcia e 5 bolas, todos com tamanhos parecidos, que foram todos colocados em um baú.

Qual brinquedo tem a maior chance de ser o primeiro retirado do baú?

Alternativas da questão 13

A bola

B urso

C boneca

D carrinho

Questão 14

Léo e Isa estão jogando um jogo de tabuleiro em que eles lançam dados para andar casas.



Léo e Isa querem saber quantas são as possibilidades que eles têm de obter um total de 7 pontos nos dois dados?

Alternativas da questão 14

A 12

B 10

C 7

D 6

Questão 15

A raposa-voadora-de-coroa-dourada é, na verdade, um morcego endêmico das Filipinas. Há não muito tempo, suas fotos ganharam popularidade na internet por serem tão grandes que se parecem com humanos fantasiados. Sua envergadura (ou seja, o comprimento das asas abertas) pode chegar a 1,70 m...

Disponível em: www2.ufjf.br/zoologiaitinerante/2021/04/01/qua-o-grandes-sao-os-animais. Acesso em: 15 mar. 2024.

Qual o comprimento máximo da envergadura da raposa-voadora-de-coroa-dourada para centímetros?

Alternativas da questão 15

- A 17 cm
- B 170 cm
- C 1,70 cm
- D 1 700 cm

Linguagens - Ensino Fundamental

Questão 16

Leia o texto a seguir para responder às questões 1 e 2.

O Macaco estava na beira da estrada, cuidando da vida dos outros e com a cauda atravessando o **caminho**. Perto dele uma cotia comia uma **frutinha** enquanto tomava o sol da manhã. Ela estava tão feliz que nem reparava no olhar de reprovação do macaco. O danado murmurava consigo mesmo:

— Mas olha só! Que descuidada! Fica aí olhando pro nada... comendo essa fruta... tem que tomar cuidado se não pode acontecer uma desgraça!

PESSOA, Augusto. *O macaco e a cotia*. Disponível em: www.augustopessoa.com/contos-de-animais. Acesso em: 08 mar. 2024

Qual palavra presente no texto é formada pela utilização de um prefixo?

Alternativas da questão 16

- A Frutinha
- B Cuidado
- C Caminho
- D Desgraça

Questão 17

Nas duas palavras destacadas no texto, a letra **H** apresenta o mesmo som que em

Alternativas da questão 17

- A hoje
- B amanhã
- C humano
- D habitante

Questão 18

Pensou em adotar um cachorro ou gato e não sabe onde encontrar animais saudáveis prontos para terem um dono? No próximo sábado (09/12), no Parque Municipal Manoel Cabral, localizado no Barro Vermelho, das 09h às 16 horas, haverá um espaço para os amantes dos bichinhos de quatro patas, sendo uma grande oportunidade para este ato de **bondade**.

Feira de adoção de animais acontece neste sábado (09/12). *ES Brasil*, 2023. Disponível em: <https://esbrasil.com.br/feira-de-adoacao-de-animais-acontece-neste-sabado/>. Acesso em: 08 mar. 2024.

A palavra destacada é formada pela adição de um

Alternativas da questão 18

- A artigo ao adjetivo
- B verbo ao adjetivo
- C sufixo ao adjetivo
- D prefixo ao adjetivo.

Questão 19

Pensou em adotar um **cachorro** ou gato e não sabe onde encontrar animais saudáveis prontos para terem um dono? No próximo sábado (09/12), no Parque Municipal Manoel Cabral, localizado no Barro Vermelho, das 09h às 16 horas, haverá um espaço para os amantes dos **bichinhos** de quatro patas, sendo uma grande oportunidade para este ato de bondade.

Feira de adoção de animais acontece neste sábado (09/12). *ES Brasil*, 2023. Disponível em: <https://esbrasil.com.br/feira-de-adoacao-de-animais-acontece-neste-sabado/>. Acesso em: 08 mar. 2024.

Qual a semelhança entre as duas palavras destacadas?

Alternativas da questão 19

- A Ambas possuem 9 letras
- B As duas têm o mesmo significado
- C Ambas apresentam 5 consoantes
- D As duas possuem as letras CH com som de X

Questão 20

Tem avó que é diferente,
nada de cachorro, gato,
cavalo ou duende.
Galinha de estimação
é o que a avó carrega
feito mapa do tesouro,
para lá e para cá
(parecem duas dançarinas).
e para quem conta
os seus segredos, fala do tempo,
do que vai colher, do que vai plantar.

MURRAY, Roseana. *Colo de avó*. Disponível em: <https://jornalnota.com.br/2017/08/22/8-poemas-de-roseana-murray-que-toda-crianca-deveria-conhecer/amp/>. Acesso em: 08 mar. 2024.

A palavra *avó*, presente no poema de Roseana Murray, é acentuada por ser uma palavra

Alternativas da questão 20

- A oxítone terminada na vogal O
- B monossilábica e terminada em O
- C paroxítone terminada na vogal O
- D monossilábica e terminada em S

Questão 21

Há flores que se comem

como se fossem frutas,

numa comunhão entre

os olhos, a boca, o **jardim**.

Hibiscos coloridos, caprichosos,

derramam no prato a sua beleza,

passageira como um relâmpago,

e ao morder um hibisco

nos transformamos em poesia.

MURRAY, Roseana. *Colo de avó*. Disponível em: <https://jornalnota.com.br/2017/08/22/8-poemas-de-roseana-murray-que-toda-crianca-deveria-conhecer/amp/>. Acesso em: 08 mar. 2024.

Na palavra destacada no poema de Roseana Murray a letra J pode ser substituída pela letra G sem alterar o som da sua pronúncia?

Alternativas da questão 21

- A Sim, apenas se a palavra for lida em voz alta
- B Sim, pois ambas as letras têm o mesmo som
- C Não, somente em palavras com significados semelhantes
- D Não, pois a pronúncia das letras J e G seguidas da vogal A é diferente

Questão 22



O pronome pessoal utilizado pelo personagem Armandinho no último quadrinho é um pronome de

Alternativas da questão 22

- A primeira pessoa do plural
- B segunda pessoa do plural
- C terceira pessoa do singular
- D primeira pessoa do singular

Questão 23

A Raposa e o Corvo

Um Corvo roubou um queijo e com **ele** fugiu para o alto de uma árvore. Uma Raposa, ao vê-lo, desejou tomar posse do queijo para comer. Colocou-se ao pé da árvore e começou a louvar a beleza e a graça do Corvo, dizendo: — Com certeza és formoso, gentil, e nenhum pássaro poderá ser comparado a ti desde que tu cantes. O Corvo, querendo mostrar-se, abriu o bico para tentar cantar, fazendo o queijo cair. A Raposa abocanhou o petisco e saiu correndo, ficando o Corvo, além de faminto, ciente de sua **ignorância**¹.

Disponível em: www.ebah.com.br/content/ABAAAAJZIAK/as-fabulas-esopo?part=2. Acesso em: 5 jan. 2019.

Glossário

¹**ignorância**: falta de conhecimento.

O pronome pessoal ele, destacado na primeira linha, se refere a qual elemento da história?

Alternativas da questão 23

- A Ao Corvo
- B A raposa
- C A árvore
- D Ao queijo

Questão 24

Complete as frases com as palavras adequadas.

DÍGRAFO – FONEMA – BILHETE

_____ é o encontro de duas letras que, ao serem pronunciadas, emitem um único _____.

São exemplos: nascer, morrer, chorar, isso, aquilo, _____.

Assinale a alternativa que preenche as lacunas, respectivamente.

- A** FONEMA – DÍGRAFO – BILHETE
- B** DÍGRAFO – FONEMA – BILHETE
- C** BILHETE – DÍGRAFO – FONEMA
- D** BILHETE – FONEMA – DÍGRAFO

Questão 25

PRONOMES PESSOAIS

1ª PESSOA	EU
2ª PESSOA	TU
3ª PESSOA	ELE, ELA
1ª PESSOA	NÓS
2ª PESSOA	VÓS
3ª PESSOA	ELES, ELAS

Observe as frases abaixo:

As histórias foram contadas pelas professoras.

Eu e vocês seremos sempre bons amigos.

Meu caderno está acabando.

Escolha a alternativa que substitui, corretamente, as palavras destacadas por um pronome pessoal.

- A** **As histórias:** Elas – **Eu e vocês:** Nós – **Meu caderno:** Ele
- B** **As histórias:** Ela – **Eu e vocês:** Vocês – **Meu caderno:** Eu
- C** **As histórias:** Eles – **Eu e vocês:** Vós – **Meu caderno:** Eles
- D** **As histórias:** Ele – **Eu e vocês:** Nós – **Meu caderno:** Ela

Questão 26

Leia o trecho a seguir para responder à questão.

Em momentos de brincadeira, um cachorro tem uma criança como um companheiro inseparável, as brincadeiras encantam pela cumplicidade, compartilhando risadas e aventuras.

Disponível em:

<https://noticias.r7.com/cidades/nd-mais/melhores-amigos-cachorro-e-crianca-sao-flagrados-em-momentos-de-brincadeira-18032024>. Acesso em: 21 mar. 2024.

O texto descreve que a relação construída entre a criança e o animal é de

- A** medo e desconfiança
- B** indiferença e distância
- C** amizade e cumplicidade
- D** competição e rivalidade

Questão 27

Leia o texto a seguir para responder às questões **27** e **28**.

Melhores amigos, Henry e Baloo têm muito em comum. Ambos foram resgatados da rua por abrigos de animais e agora gostam de fazer longos passeios juntos por grandes paisagens da natureza. O que os torna tão especiais é que são uma dupla inusitada: um gato e um cachorro.

A **amizade** improvável e as viagens para áreas montanhosas no estado americano do Colorado conquistaram milhares de fãs, que seguem as aventuras de Henry e Baloo no Instagram. Para os donos dos bichos, o casal Cynthia Bennett e Andre Sibilsky, a popularidade da dupla é "surreal".

Disponível em: <https://g1.globo.com/turismo-e-viagem/noticia/gato-e-cachorro-viram-melhores-amigos-e-fazem-viagens-juntos-por-montanhas-dos-eua.ghtml>. Acesso em: 21 mar. 2024.

Em relação à última letra presente na palavra destacada, ao ser falada, pode apresentar o som das vogais:

Alternativas da questão 27

A E ou I

B E ou O

C A ou I

D U ou O

Questão 28

A reportagem apresenta uma amizade improvável por se tratar de

Alternativas da questão 28

A um cão e um gato.

B um cachorro e um coelho.

C dois gatos de cores distintas.

D dois cães de raças diferentes

Questão 29

A amizade inesperada entre um jardineiro e uma garça tem atraído olhares de quem passa pelo Congresso Nacional. **Há** quatro anos, do lado de fora da sede do Poder Legislativo, a ave segue os passos de Antenor Pereira dos Santos.

Disponível em: www.g1.globo.com/df/distrito-federal/noticia/2020/02/24/amizade-inusitada-entre-garca-e-jardineiro-atrai-olhares-no-congresso-nacional-em-brasilia.ghtml. Acesso em: 21 mar. 2024.

Na palavra destacada no texto, a letra H

Alternativas da questão 29

A altera o som da vogal A

B tem som da letra R na sua pronúncia

C pode ser tirada sem prejuízo para a palavra

D está presente, mas não tem som na sua pronúncia

Questão 30

Leia o texto a seguir para responder à questão 5.

O *Globo Repórter* desta sexta-feira (15) **mostrou** a história da Júlia, uma pequena baiana de apenas 11 anos que **deu** um novo rumo ao negócio da família – no quintal de casa, brinca de colher os cacaos cultivados por sua família.

Ela, que representa a quarta geração de cacauicultores, **herdou** a paixão pelo fruto e foi além: fabricar o chocolate com o cacau que plantam.

Disponível em: <https://g1.globo.com/globo-reporter/noticia/2024/03/17/a-fabrica-de-chocolate-da-julia-conheca-a-historia-da-menina-que-transformou-o-cacau-plantado-pela-familia-em-uma-fabrica-de-chocolate.ghtml>. Acesso em: 01 dez. 2024.

As palavras destacadas no texto são verbos que indicam

Alternativas da questão 30

A ação

B estado

C características

D fenômenos da natureza

Questão 31

Antes de iniciar a Redação, leia o Texto Motivador – fábula “O lobo e o cordeiro”.

Certa vez, um Lobo faminto estava na colina bebendo água do riacho.

Olhou para baixo e viu um cordeiro fazendo a mesma coisa.

“Lá está meu jantar”, ele pensou, “é só arranjar uma razão para apanhá-lo.

Então, em tom severo e assustador, gritou para o Cordeiro: “Como você

ousa sujar a água que estou bebendo?”

“Espera aí, meu senhor”, disse o Cordeirinho inocente, “como vou sujar

sua água se ela vem correndo daí pra cá?”

“Está bem”, respondeu o Lobo, “mas por que você andou me xingando o ano passado?”

“Essa não”, retrucou o Cordeiro, “eu não tenho ainda seis meses...”

“Não importa”, vociferou (reclamou) o Lobo, “se não foi você, foi seu pai”.

E tibum! Comeu o Cordeirinho inteiro. Só deu tempo do coitado suspirar.

A razão do mais forte é sempre mais forte.

LAGO, Ângela (trad). Disponível em: Angela-lago.com.br. Acesso em: 03 de dez. 2024.

(adaptado).

HORA PARA ESCREVER!!!

Agora, continue a história a seguir.

A formiga e a pomba

Uma Formiga foi à margem do rio para beber água beber água.

Arrastada pela forte correnteza, estava prestes a se afogar, quando uma

Pomba, que estava numa árvore sobre a água, arrancou uma folha e flutuou

em segurança até a margem... AGORA CONTINUE A HISTÓRIA!